

الثانية علوم تجريبية

تصحيح الامتحان الوطني - الملغى - ل 2015

التمرين الأول (3 ن)

نعتبر ، في الفضاء المنسوب إلى معلم متعامد ممنظم مباشر $(O, \vec{i}, \vec{j}, \vec{k})$ ، النقطتين $A(2,1,0)$ و $B(-4,1,0)$

(1) ليكن (P) المستوى المار من النقطة A و $\vec{u} = \vec{i} + \vec{j} - \vec{k}$ متجهة منظمية عليه . 0,5

بين أن $x + y - z - 3 = 0$ هي معادلة ديكارتية للمستوى (P)

(2) لتكن (S) مجموعة النقط M من الفضاء التي تحقق العلاقة $\vec{MA} \cdot \vec{MB} = 0$ 0,75

بين أن (S) هي الفلكة التي مركزها النقطة $\Omega(-1,1,0)$ و شعاعها 3

(3) أ- أحسب مسافة النقطة Ω عن المستوى (P) ثم استنتج أن (P) يقطع (S) وفق دائرة (C) 0,5

ب- بين أن مركز الدائرة (C) هو النقطة $H(0,2,-1)$ 0,5

(4) بين أن $\vec{OH} \wedge \vec{OB} = \vec{i} + 4\vec{j} + 8\vec{k}$ ثم استنتج مساحة المثلث OHB 0,75

التمرين الثاني (3 ن)

I. نعتبر العدد العقدي a بحيث $a = 2 + \sqrt{2} + i\sqrt{2}$

(1) بين أن معيار العدد العقدي a هو $2\sqrt{2} + \sqrt{2}$ 0,5

(2) تحقق من أن $a = 2 \left(1 + \cos\left(\frac{\pi}{4}\right) \right) + 2i \sin\left(\frac{\pi}{4}\right)$ 0,25

(3) أ- بإخطاظ $\cos^2 \theta$ ، حيث θ عدد حقيقي ، بين أن $1 + \cos 2\theta = 2 \cos^2 \theta$ 0,25

ب- بين أن $a = 4 \cos^2 \frac{\pi}{8} + 4i \cos \frac{\pi}{8} \sin \frac{\pi}{8}$ (نذكر أن $\sin 2\theta = 2 \cos \theta \sin \theta$) 0,5

ج- بين أن $a^4 = \left(2\sqrt{2} + \sqrt{2} \right)^4 i$ ثم بين أن a هو شكل مثلثي للعدد a 0,5

II. نعتبر، في المستوى العقدي المنسوب إلى معلم متعامد ممنظم مباشر $(O, \vec{e}_1, \vec{e}_2)$ ، النقطتين Ω و A اللتين

لحفاهما على التوالي هما ω و $a = 2 + \sqrt{2} + i\sqrt{2}$ بحيث $\omega = \sqrt{2}$ و R الدوران الذي مركزه Ω

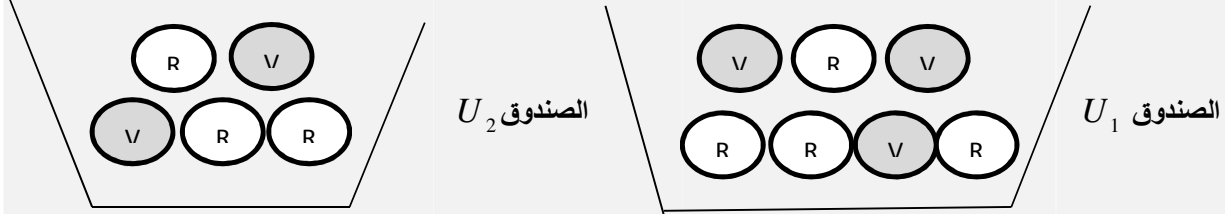
و زاويته $\frac{\pi}{2}$

(1) بين أن اللق b للنقطة B صورة النقطة A بالدوران R هو $2i$ 0,5

(2) حدد مجموعة النقط M ذات اللق z بحيث $|z - 2i| = 2$ 0,5

التمرين الثالث (3 ن)

يحتوي صندوق U_1 على 7 كرات : أربع كرات حمراء و ثلاث كرات خضراء (لا يمكن التمييز بينها باللمس)
و يحتوي صندوق U_2 على 5 كرات : ثلاث كرات حمراء و كرتان خضراوان (لا يمكن التمييز بينها باللمس)



I 2 نعتبر التجربة التالية : نسحب عشوائيا و في آن واحد ثلاث كرات من الصندوق U_1

ليكن A الحدث : " الحصول على كرة حمراء واحدة و كرتين خضراوين "
و B الحدث : " الحصول على ثلاث كرات من نفس اللون "

$$\text{بين أن } p(A) = \frac{12}{35} \text{ و } p(B) = \frac{1}{7}$$

II 1 نعتبر التجربة التالية : نسحب عشوائيا و في آن واحد كرتين من U_1 ثم نسحب عشوائيا كرة واحدة من U_2
ليكن C الحدث : " الحصول على ثلاث كرات حمراء " .

$$\text{بين أن } p(C) = \frac{6}{35}$$

مسألة : (11 ن)

نعتبر الدالة العددية f للمتغير الحقيقي x بحيث : $f(x) = \frac{1}{x(1-\ln x)}$

وليكن (C_f) المنحنى الممثل للدالة f في معلم متعامد ممنظم (O, \vec{i}, \vec{j}) (الوحدة : 2cm)

I 0,5 1 بين أن $D_f =]0, e[\cup]e, +\infty[$ هي مجموعة تعريف الدالة f

2 0,75 أ- أحسب $\lim_{x \rightarrow e^-} f(x)$ و $\lim_{x \rightarrow e^+} f(x)$ و أول هندسيا النتيجتين المتوصل إليهما

ب- أحسب $\lim_{x \rightarrow +\infty} f(x)$ ثم استنتج أن المنحنى (C_f) يقبل مقاربا بجوار $+\infty$ يتم تحديده

ج- بين أن $\lim_{x \rightarrow 0^+} f(x) = +\infty$ ثم أول هندسيا النتيجة (لحساب $\lim_{x \rightarrow 0^+} f(x)$ لاحظ أن $x(1-\ln x) = x - x \ln x$)

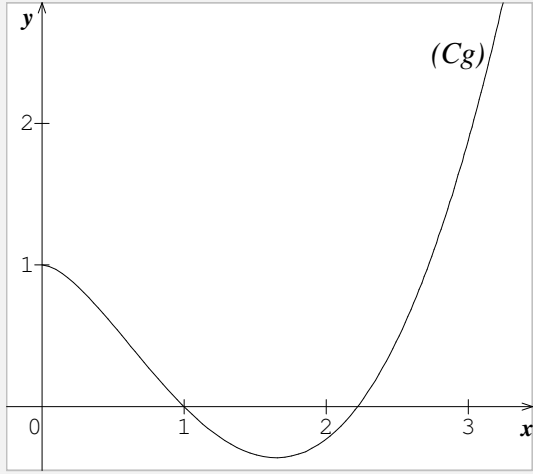
3 0,75 أ- بين أن $f'(x) = \frac{\ln x}{x^2(1-\ln x)^2}$ لكل x من D_f

ب- بين أن الدالة f تناقصية على المجال $]0, 1[$ و تزايدية على كل من المجالين $[1, e[$ و $]e, +\infty[$

ج- ضع جدول تغيرات الدالة f على D_f 0,25

II لتكن g الدالة العددية المعرفة على المجال $]0, +\infty[$ بما يلي : $g(x) = 1 - x^2(1 - \ln x)$

و ليكن (C_g) المنحنى الممثل للدالة g في معلم متعامد ممنظم (أنظر الشكل)



1) أ- حدد مبيانيا عدد حلول المعادلة (E) التالية :

$$x \in]0, +\infty[, g(x) = 0$$

ب- نعطي جدول القيم التالي :

x	2,1	2,2	2,3	2,4
$g(x)$	-0,14	-0,02	0,12	0,28

بين أن المعادلة (E) تقبل حلا α بحيث
 $2,2 < \alpha < 2,3$

(2)

أ- تحقق من أن $f(x) - x = \frac{g(x)}{x(1 - \ln x)}$ لكل x من

D_f

ب- بين أن المستقيم (Δ) الذي معادلته $y = x$ يقطع المنحنى
 (C_f) في النقطتين اللتين أفصولهما 1 و α

ج- حدد انطلاقا من (C_g) ، إشارة الدالة g على المجال $[1, \alpha]$ و بين أن $f(x) - x \leq 0$ لكل x من $[1, \alpha]$

3) أنشئ ، في نفس المعلم (O, \vec{i}, \vec{j}) ، المستقيم (Δ) و المنحنى (C_f)

4) أ- بين أن $\int_1^{\sqrt{e}} \frac{1}{x(1 - \ln x)} dx = \ln 2$ (لاحظ أن : $\frac{1}{x(1 - \ln x)} = \frac{1}{x} \cdot \frac{1}{1 - \ln x}$ لكل x من D_f)

ب- أحسب ب cm^2 ، مساحة حيز المستوى المحصور بين المنحنى (C_f) و المستقيم (Δ) و المستقيمين اللذين معادلتهما $x = \sqrt{e}$ و $x = 1$

III. نعتبر المتتالية العددية (u_n) المعرفة بما يلي : $u_0 = 2$ و $u_{n+1} = f(u_n)$ لكل n من \mathbb{N}

1) بين بالترجع أن $1 \leq u_n \leq \alpha$ لكل n من \mathbb{N}

2) بين أن المتتالية (u_n) تناقصية (يمكن استعمال نتيجة السؤال (II) 2 ج.)

3) استنتج أن المتتالية (u_n) متقاربة و حدد نهايتها

تصحيح التمرين الأول

(1) لدينا : $\vec{u}(1,1,-1)$ متجهة منظمية للمستوى (P)

إذن معادلة ديكارتية للمستوى (P) تكتب على شكل : $(1).x + (1).y + (-1).z + d = 0$

و بما أن $A(2,1,0) \in (P)$ فإن : $(1).(2) + (1).(1) + (-1).(0) + d = 0$ أي : $d = -3$

و منه معادلة للمستوى (P) هي : $x + y - z - 3 = 0$

(2) طريقة 1:

بما أن (S) هي مجموعة النقط M من الفضاء التي تحقق العلاقة $\vec{MA} \cdot \vec{MB} = 0$

فإن (S) هي الفلكة التي أحد أقطارها $[AB]$

$$\left\{ \begin{array}{l} x_{\Omega} = \frac{(2) + (-4)}{2} = -1 \\ y_{\Omega} = \frac{1+1}{2} = 1 \\ z_{\Omega} = \frac{0+0}{2} = 0 \end{array} \right. \quad \text{و منه } \Omega \text{ مركز الفلكة } (S) \text{ هو منتصف القطعة } [AB] \text{ أي :}$$

أي $\Omega(-1,1,0)$ هي مركز الفلكة (S) .

$$R = \frac{AB}{2} = \frac{\sqrt{(-4-2)^2 + (1-1)^2 + (0-0)^2}}{2} = \frac{\sqrt{36}}{2} = \frac{6}{2} = 3 \text{ هو شعاعها } R$$

طريقة 2:

لتكن $M(x, y, z)$ نقطة من الفضاء

لدينا : $\vec{MA}(2-x, 1-y, -z)$ و $\vec{MB}(-4-x, 1-y, -z)$

$$M(x, y, z) \in (S) \Leftrightarrow \vec{MA} \cdot \vec{MB} = 0$$

$$\Leftrightarrow (2-x)(-4-x) + (1-y)(1-y) + (-z)(-z) = 0$$

$$\Leftrightarrow x^2 + 2x + y^2 - 2y + 1 + z^2 = 8$$

$$\Leftrightarrow (x+1)^2 + (y-1)^2 + z^2 = 9$$

$$\Leftrightarrow (x - (-1))^2 + (y - (1))^2 + (z - (0))^2 = (3)^2$$

و منه (S) هي الفلكة التي مركزها النقطة $\Omega(-1,1,0)$ و شعاعها 3

$$d(\Omega, (P)) = \frac{|(-1) + (1) - (0) - 3|}{\sqrt{(1)^2 + (1)^2 + (-1)^2}} = \frac{3}{\sqrt{3}} = \sqrt{3} \quad \text{أ} \quad (3)$$

بما أن $d(\Omega, (P)) < R$ فإن (P) يقطع (S) وفق دائرة (C)

ب- H مركز الدائرة (C) هي المسقط العمودي للنقطة Ω على المستوى (P) أي هي نقطة تقاطع المستقيم (Δ) المار من Ω و العمودي على المستوى (P)

لدينا : $\vec{u}(1,1,-1)$ متجهة منظمية للمستوى (P) و $(\Delta) \perp (P)$

إن $\vec{u}(1,1,-1)$ هي متجهة موجهة للمستقيم (Δ) و لدينا $\Omega(-1,1,0) \in (\Delta)$

$$\begin{cases} x = (-1) + t(1) = -1 + t \\ y = (1) + t(1) = 1 + t \quad (t \in \mathbb{R}) \\ z = (0) + t(-1) = -t \end{cases}$$

إن تمثيل بارامتري للمستقيم (Δ) هو :

$$\begin{cases} x = -1 + t \\ y = 1 + t \\ z = -t \end{cases} \quad (t \in \mathbb{R})$$

و بالتالي متلوث إحداثيات H هو حل للنظمة :

$$\begin{cases} x + y - z - 3 = 0 \end{cases}$$

$$\begin{cases} x = -1 + 1 = 0 \\ y = 1 + 1 = 2 \\ z = -1 \\ t = 1 \end{cases} \quad \text{أي : } H(0, 2, -1) \text{ منه هي مركز الدائرة } (C).$$

(4)

✓ لدينا $\vec{OH}(0, 2, -1)$ و $\vec{OB}(-4, 1, 0)$

$$\vec{OH} \wedge \vec{OB} = \begin{vmatrix} 2 & 1 \\ -1 & 0 \end{vmatrix} \vec{i} - \begin{vmatrix} 0 & -4 \\ -1 & 0 \end{vmatrix} \vec{j} + \begin{vmatrix} 0 & -4 \\ 2 & 1 \end{vmatrix} \vec{k} = \vec{i} + 4\vec{j} + 8\vec{k}$$

✓ مساحة المثلث OHB :

$$S_{(OHB)} = \frac{1}{2} \|\vec{OH} \wedge \vec{OB}\| = \frac{1}{2} \times \sqrt{(1)^2 + (4)^2 + (8)^2} = \frac{\sqrt{81}}{2} = \frac{9}{2}$$

تصحيح التمرين الثاني

.I

(1)

$$\begin{aligned}
 |a| &= \sqrt{(2+\sqrt{2})^2 + (\sqrt{2})^2} \\
 &= \sqrt{4+4\sqrt{2}+2+2} \\
 &= \sqrt{8+4\sqrt{2}} \\
 &= \sqrt{4(2+\sqrt{2})} \\
 &= 2\sqrt{2+\sqrt{2}}
 \end{aligned}$$

(2)

$$\begin{aligned}
 a &= 2 + \sqrt{2} + i\sqrt{2} \\
 a &= 2\left(1 + \frac{\sqrt{2}}{2}\right) + 2i\left(\frac{\sqrt{2}}{2}\right) \\
 a &= 2\left(1 + \cos\left(\frac{\pi}{4}\right)\right) + 2i\sin\left(\frac{\pi}{4}\right)
 \end{aligned}$$

(3) أ- ليكن $\theta \in \mathbb{R}$

$$\begin{aligned}
 \cos^2(\theta) &= \left(\frac{e^{i\theta} + e^{-i\theta}}{2}\right)^2 \\
 &= \frac{e^{2i\theta} + 2e^{i\theta}e^{-i\theta} + e^{-2i\theta}}{4} \\
 &= \frac{1}{2}\left(\frac{e^{2i\theta} + 1 + e^{-2i\theta}}{2}\right) \\
 &= \frac{1}{2}\left(\frac{e^{2i\theta} + e^{-2i\theta}}{2} + 1\right) = \frac{1}{2}(\cos(2\theta) + 1)
 \end{aligned}$$

و منه : $1 + \cos(2\theta) = 2\cos^2(\theta)$ لكل θ من \mathbb{R}

-ب-

$$\begin{aligned}
a &= 2 \left(1 + \cos \left(\frac{\pi}{4} \right) \right) + i \cdot 2 \sin \left(\frac{\pi}{4} \right) \\
&= 2 \left(1 + \cos \left(2 \cdot \frac{\pi}{8} \right) \right) + i \cdot 2 \sin \left(2 \cdot \frac{\pi}{8} \right) \\
&= 2 \times 2 \cos^2 \left(\frac{\pi}{8} \right) + i \cdot 2 \times 2 \cos \left(\frac{\pi}{8} \right) \sin \left(\frac{\pi}{8} \right) \\
&= 4 \cos^2 \left(\frac{\pi}{8} \right) + i \cdot 4 \cos \left(\frac{\pi}{8} \right) \sin \left(\frac{\pi}{8} \right)
\end{aligned}$$

ج-

✓ بما أن $\cos \left(\frac{\pi}{8} \right) > 0$ فإن الشكل المثلثي للعدد a هو :

$$a = 4 \cos \left(\frac{\pi}{8} \right) \cdot \left(\cos \left(\frac{\pi}{8} \right) + i \sin \left(\frac{\pi}{8} \right) \right)$$

$$a = |a| \cdot \left(\cos \left(\frac{\pi}{8} \right) + i \sin \left(\frac{\pi}{8} \right) \right) \quad \checkmark \text{ لدينا}$$

$$a = 2\sqrt{2+\sqrt{2}} \cdot \left(\cos \left(\frac{\pi}{8} \right) + i \sin \left(\frac{\pi}{8} \right) \right) \quad \text{إذن}$$

حسب علاقة موافر :

$$a^4 = \left(2\sqrt{2+\sqrt{2}} \cdot \left(\cos \left(\frac{\pi}{8} \right) + i \sin \left(\frac{\pi}{8} \right) \right) \right)^4 = \left(2\sqrt{2+\sqrt{2}} \right)^4 \cdot \left(\cos \left(4 \cdot \frac{\pi}{8} \right) + i \sin \left(4 \cdot \frac{\pi}{8} \right) \right)$$

$$a^4 = \left(2\sqrt{2+\sqrt{2}} \right)^4 \cdot \left(\cos \left(\frac{\pi}{2} \right) + i \sin \left(\frac{\pi}{2} \right) \right) \quad \text{إذن}$$

$$a^4 = \left(2\sqrt{2+\sqrt{2}} \right)^4 i \quad \text{ومنه}$$

$$\left(\sin \left(\frac{\pi}{2} \right) = 1 \text{ و } \cos \left(\frac{\pi}{2} \right) = 0 \right)$$

.II

(1) لدينا $B(b)$ صورة $A(a)$ بالدوران R الذي مركزه $\Omega(\omega)$ و زاويته $\frac{\pi}{2}$

$$b - \omega = e^{i \frac{\pi}{2}} (a - \omega) \quad \text{إذن}$$

$$b - \sqrt{2} = i \cdot (2 + \sqrt{2} + i\sqrt{2} - \sqrt{2}) \quad \text{إذن}$$

$$b - \sqrt{2} = i \cdot (2 + i\sqrt{2}) \quad \text{إذن}$$

$$b - \sqrt{2} = 2i - \sqrt{2} \quad \text{إذن :}$$

$$b = 2i \quad \text{ومنه :}$$

$$(2) \quad \text{لنحدد مجموعة النقط } M \text{ ذات اللحق } z \text{ بحيث } |z - 2i| = 2$$

$$|z - 2i| = 2 \Leftrightarrow |z - b| = 2 \quad \text{لدينا :}$$

$$\Leftrightarrow BM = 2$$

إذن مجموعة النقط M هي الدائرة التي مركزها B و شعاعها 2

تصحيح التمرين الثالث

I. التجربة " سحب في آن واحد ثلاث كرات من الصندوق U_1 "

ليكن Ω_1 كون إمكانيات هذه التجربة

$$\text{لدينا : } \text{card } \Omega_1 = C_7^3 = 35$$

✓ الحدث A " الحصول على كرة حمراء واحدة و كرتين خضراوين "

$$\text{لدينا : } \text{card}A = C_4^1 \times C_3^2 = 4 \times 3 = 12$$

$$\text{إذن : } p(A) = \frac{\text{card}A}{\text{card } \Omega_1} = \frac{12}{35}$$

✓ الحدث B " الحصول على ثلاث كرات من نفس اللون "

$$\text{لدينا : } \text{card}B = C_4^3 + C_3^3 = 4 + 1 = 5$$

$$\text{إذن : } p(B) = \frac{\text{card}B}{\text{card } \Omega_1} = \frac{5}{35} = \frac{1}{7}$$

II. التجربة " نسحب عشوائيا و في آن واحد كرتين من U_1 ثم نسحب عشوائيا كرة واحدة من U_2 "

ليكن Ω كون إمكانيات هذه التجربة

$$\text{لدينا : } \text{card } \Omega = C_7^2 \times 5 = 21 \times 5 = 105$$

✓ الحدث C " الحصول على ثلاث كرات حمراء " .

$$\text{لدينا : } \text{card}C = C_4^2 \times 3 = 6 \times 3 = 18$$

$$\text{إذن : } p(C) = \frac{\text{card}C}{\text{card } \Omega} = \frac{18}{105} = \frac{6}{35}$$

تصحيح المسألة

1. I (1)

$$D_f = \{x \in \mathbb{R} / x(1 - \ln x) \neq 0, x > 0\}$$

$$D_f = \{x \in \mathbb{R} / x \neq 0, (1 - \ln x) \neq 0, x > 0\}$$

$$D_f = \{x \in \mathbb{R} / x \neq 0, \ln x \neq 1, x > 0\}$$

$$D_f = \{x \in \mathbb{R} / x \neq e, x > 0\}$$

$$=]0, e[\cup]e, +\infty[$$

2) أ-

x	0	e	$+\infty$
$1 - \ln x$	+	0	-

$$\lim_{\substack{x \rightarrow e \\ x > e}} f(x) = \lim_{\substack{x \rightarrow e \\ x > e}} \frac{1}{x(1 - \ln x)} = -\infty \quad \checkmark \text{ لدينا :}$$

$$\left\{ \begin{array}{l} \lim_{\substack{x \rightarrow e \\ x > e}} x = e \\ \lim_{\substack{x \rightarrow e \\ x > e}} 1 - \ln x = 0^- \end{array} \right. \quad \text{لأن :}$$

$$\lim_{\substack{x \rightarrow e \\ x < e}} f(x) = \lim_{\substack{x \rightarrow e \\ x < e}} \frac{1}{x(1 - \ln x)} = +\infty \quad \checkmark \text{ لدينا :}$$

$$\left\{ \begin{array}{l} \lim_{\substack{x \rightarrow e \\ x < e}} x = e \\ \lim_{\substack{x \rightarrow e \\ x < e}} 1 - \ln x = 0^+ \end{array} \right. \quad \text{لأن :}$$

التأويل الهندسي :

$$x = e \quad \text{إذن : } (C_f) \text{ يقبل مقارب عمودي معادلته } x = e \quad \left\{ \begin{array}{l} \lim_{\substack{x \rightarrow e \\ x < e}} f(x) = +\infty \\ \lim_{\substack{x \rightarrow e \\ x > e}} f(x) = -\infty \end{array} \right. \quad \text{لدينا :}$$

$$\lim_{x \rightarrow +\infty} f(x) = \lim_{x \rightarrow +\infty} \frac{1}{x(1 - \ln x)} = 0 \quad \text{ب- لدينا :}$$

$$\left\{ \begin{array}{l} \lim_{x \rightarrow +\infty} x = +\infty \\ \lim_{x \rightarrow +\infty} 1 - \ln x = -\infty \end{array} \right. \quad \text{لأن :}$$

بما أن : $\lim_{x \rightarrow +\infty} f(x) = 0$ فإن (C_f) يقبل مقارب أفقي معادلته $y = 0$ بجوار $+\infty$

$$\lim_{\substack{x \rightarrow 0 \\ x > 0}} f(x) = \lim_{\substack{x \rightarrow 0 \\ x > 0}} \frac{1}{x(1-\ln x)} = \lim_{\substack{x \rightarrow 0 \\ x > 0}} \frac{1}{x - x \ln x} = +\infty \quad \text{ج- لدينا}$$

$$\left\{ \begin{array}{l} \lim_{\substack{x \rightarrow 0 \\ x > 0}} x = 0^+ \\ \lim_{\substack{x \rightarrow 0 \\ x > 0}} -x \ln x = 0^+ \end{array} \right. \quad \text{لأن :}$$

التأويل الهندسي :

بما أن : $\lim_{\substack{x \rightarrow 0 \\ x > 0}} f(x) = +\infty$ فإن (C_f) يقبل مقارب عمودي معادلته $x = 0$

(3) أ- ليكن $x \in D_f$:

$$f'(x) = \left(\frac{1}{x(1-\ln x)} \right)'$$

$$f'(x) = \frac{-(x(1-\ln x))'}{(x(1-\ln x))^2}$$

$$f'(x) = \frac{-((x)'(1-\ln x) + x(1-\ln x)')}{x^2(1-\ln x)^2}$$

$$f'(x) = \frac{-(1-\ln x - 1)}{x^2(1-\ln x)^2}$$

$$f'(x) = \frac{\ln x}{x^2(1-\ln x)^2}$$

$$\text{إذن : } f'(x) = \frac{\ln x}{x^2(1-\ln x)^2} \text{ لكل } x \text{ من } D_f$$

ب- ليكن $x \in D_f$:

$$f'(x) = 0 \Leftrightarrow \ln x = 0 \Leftrightarrow x = 1$$

لدينا : $x^2(1-\ln x)^2 > 0$ إذن إشارة $f'(x)$ هي إشارة $\ln x$

✓ على المجال $]0,1[$: $\ln x \leq 0$ إذن $f'(x) \leq 0$ ومنه f تناقصية

✓ على المجالين $[1, e[$ و $]e, +\infty[$: $\ln x \geq 0$ إذن $f'(x) \geq 0$ ومنه f تزايدية

ج- جدول تغيرات f :

x	0	1	e	$+\infty$
$f'(x)$		-0	+	+
$f(x)$	$+\infty$	\searrow 1 \nearrow	$+\infty$	\nearrow 0 $-\infty$

II (1) أ- مبيانيا عدد حلول المعادلة (E) هو حلين لأن عدد نقط تقاطع (C_f) مع محور الأفاصيل هو نقطتين .

ب-

✓ g متصلة على المجال $[2,2;2,3]$

$$\begin{cases} g(2,2) = -0,02 \\ g(2,3) = 0,12 \end{cases} \Rightarrow g(2,2) \times g(2,3) < 0 \quad \checkmark$$

إذن حسب مبرهنة القيم الوسيطة : المعادلة (E) تقبل حلا α بحيث : $2,2 < \alpha < 2,3$

(2) أ- ليكن $x \in D_f$:

$$\begin{aligned} f(x) - x &= \frac{1}{x(1 - \ln x)} - x \\ &= \frac{1 - x^2(1 - \ln x)}{x(1 - \ln x)} \\ &= \frac{g(x)}{x(1 - \ln x)} \end{aligned}$$

$$\text{إذن : } f(x) - x = \frac{g(x)}{x(1 - \ln x)} \text{ لكل } x \text{ من } D_f$$

ب-

$$\begin{aligned} f(x) = x &\Leftrightarrow f(x) - x = 0 \\ &\Leftrightarrow g(x) = 0 \\ &\Leftrightarrow x = 1 \text{ أو } x = \alpha \end{aligned}$$

إذن (Δ) يقطع (C_f) في النقطتين اللتين أفصولهما 1 أو α

ج-

✓ على المجال $[1, \alpha]$:

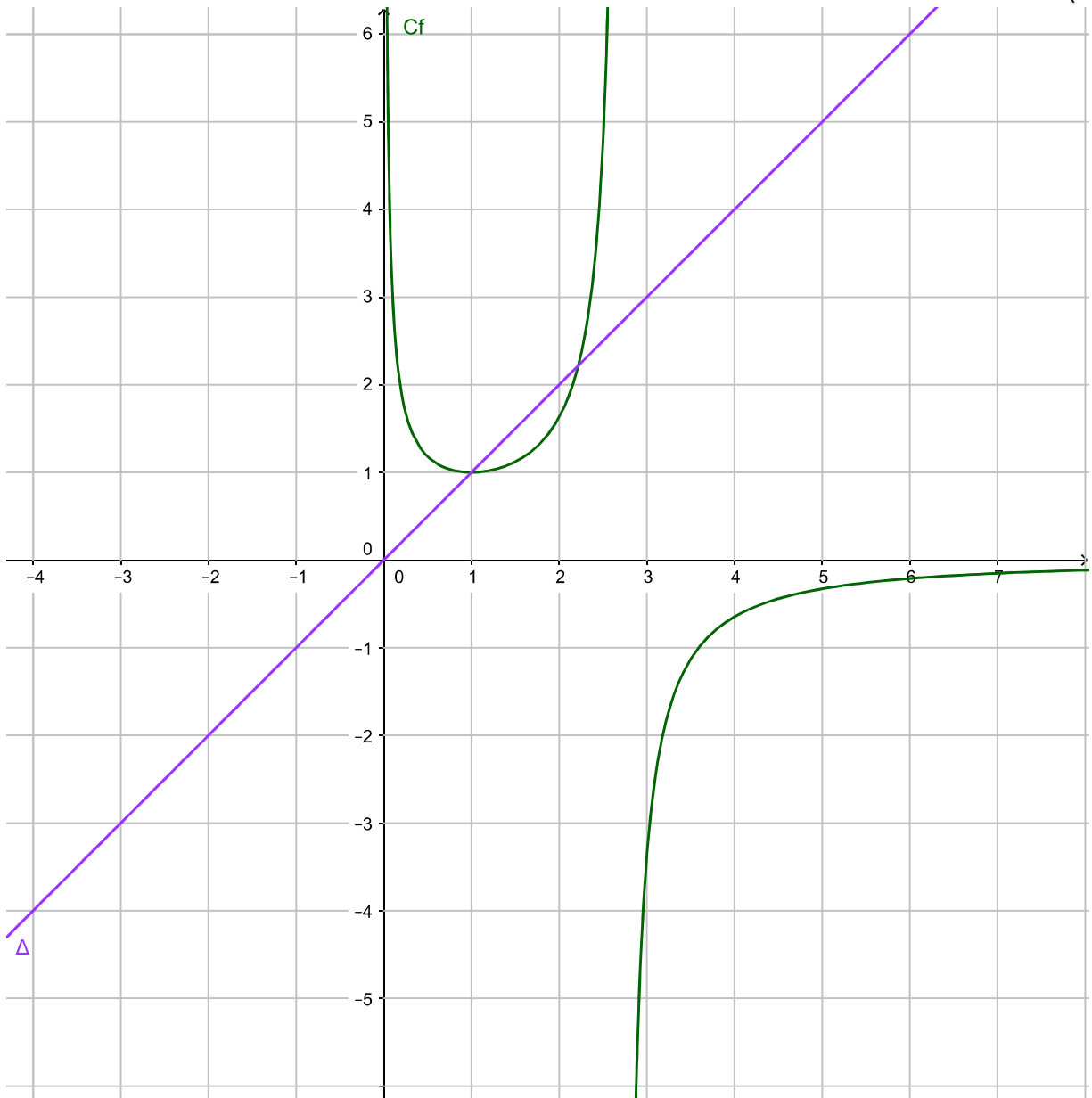
لدينا (C_g) يوجد تحت محور الأفاصيل إذن $g(x) \leq 0$ لكل x من المجال $[1, \alpha]$

✓

x	1	α
$g(x)$	0	- 0
$x(1-\ln(x))$	+	
$f(x)-x$	0	- 0

إذن : $f(x) - x \leq 0$ لكل x من المجال $[1, \alpha]$

(3)



(4) أ-

$$\begin{aligned}
\int_1^{\sqrt{e}} \frac{1}{x(1-\ln x)} dx &= \int_1^{\sqrt{e}} \frac{\frac{1}{x}}{1-\ln x} dx \\
&= -\int_1^{\sqrt{e}} \frac{(1-\ln x)'}{1-\ln x} dx \\
&= -\left[\ln|1-\ln(x)| \right]_1^{\sqrt{e}} \\
&= -\left(\ln\left(\frac{1}{2}\right) - 0 \right) \\
&= \ln 2
\end{aligned}$$

-ب-

$$\begin{aligned}
A &= \int_1^{\sqrt{e}} |f(x) - x| dx \times \|\vec{i}\| \times \|\vec{j}\| \\
&= \int_1^{\sqrt{e}} (x - f(x)) dx \times 2cm \times 2cm \\
&= \int_1^{\sqrt{e}} \frac{-g(x)}{x(1-\ln x)} dx \times 4cm^2 \\
&= \int_1^{\sqrt{e}} \frac{x^2(1-\ln x) - 1}{x(1-\ln x)} dx \times 4cm^2 \\
&= \int_1^{\sqrt{e}} \left(x - \frac{1}{x(1-\ln x)} \right) dx \times 4cm^2 \\
&= \left(\int_1^{\sqrt{e}} x dx - \int_1^{\sqrt{e}} \frac{1}{x(1-\ln x)} dx \right) \times 4cm^2 \\
&= \left(\left[\frac{x^2}{2} \right]_1^{\sqrt{e}} - \ln 2 \right) \times 4cm^2 \\
&= \left(\frac{e-1}{2} - \ln 2 \right) \times 4cm^2 \\
&= (2e - 2 - 4\ln 2) cm^2
\end{aligned}$$

.III (1)

✓ من أجل $n = 0$:لدينا : $u_0 = 2$ إذن $1 \leq u_0 \leq \alpha$

✓ ليكن $n \in \mathbb{N}$

• نفترض أن : $1 \leq u_n \leq \alpha$

• و نبين أن : $1 \leq u_{n+1} \leq \alpha$

لدينا حسب الإفتراض $1 \leq u_n \leq \alpha$

و لدينا الدالة f تزايدية على المجال $[1, \alpha]$

إذن : $f(1) \leq f(u_n) \leq f(\alpha)$

و منه : $1 \leq u_{n+1} \leq \alpha$

✓ نستنتج أن : $1 \leq u_n \leq \alpha$ لكل n من \mathbb{N}

(2) حسب نتيجة السؤال (II 2) ج- لدينا : $f(x) - x \leq 0$ لكل x من $[1, \alpha]$

و بما أن $1 \leq u_n \leq \alpha$ لكل n من \mathbb{N}

فإن : $f(u_n) - u_n \leq 0$ لكل n من \mathbb{N}

إذن : $u_{n+1} - u_n \leq 0$ لكل n من \mathbb{N}

و بالتالي المتتالية (u_n) تناقصية

(3)

✓ بما أن (u_n) تناقصية و مصغرة فإن (u_n) متقاربة

✓ لدينا : $\begin{cases} u_0 = 2 \in [1, \alpha] \\ u_{n+1} = f(u_n) \end{cases}$

• الدالة f متصلة على المجال $[1, \alpha]$

• $f([1, \alpha]) = [f(1), f(\alpha)] = [1, \alpha]$

• (u_n) متقاربة

إذن نهاية المتتالية (u_n) هي حل للمعادلة $f(x) = x$

لدينا : $f(x) = x \Leftrightarrow x = 1$ أو $x = \alpha$

و بما أن (u_n) تناقصية فإن : $u_n \leq u_0$ لكل n من \mathbb{N}

إذن $u_n \leq 2$ لكل n من \mathbb{N}

و منه $\lim_{n \rightarrow +\infty} u_n \leq 2$ لكل n من \mathbb{N}

و بالتالي : $\lim_{n \rightarrow +\infty} u_n = 1$

つづく